

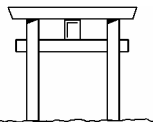
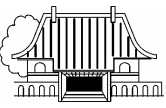
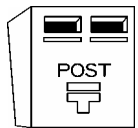





地図記号













学習日 月 日

年 組 番 名前



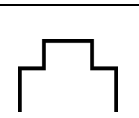
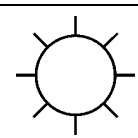



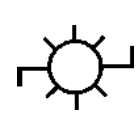
1 地図記号のなりたちを調べましょう。

①図にあう地図記号を、下の口の中から選び、①～⑧の口に書き入れましょう。

①  とりい <input type="text"/>	②  インドから伝わった 記号 <input type="text"/>	③  “デ”のりやく字 <input type="text"/>	④  工事のときのなわ の形 <input type="text"/>
⑤  くだもの <input type="text"/>	⑥  せきじゆうじ はた 赤十字の旗 <input type="text"/>	⑦  はいぼう 警棒 <input type="text"/>	⑧  ゆつぽと 湯けむり <input type="text"/>

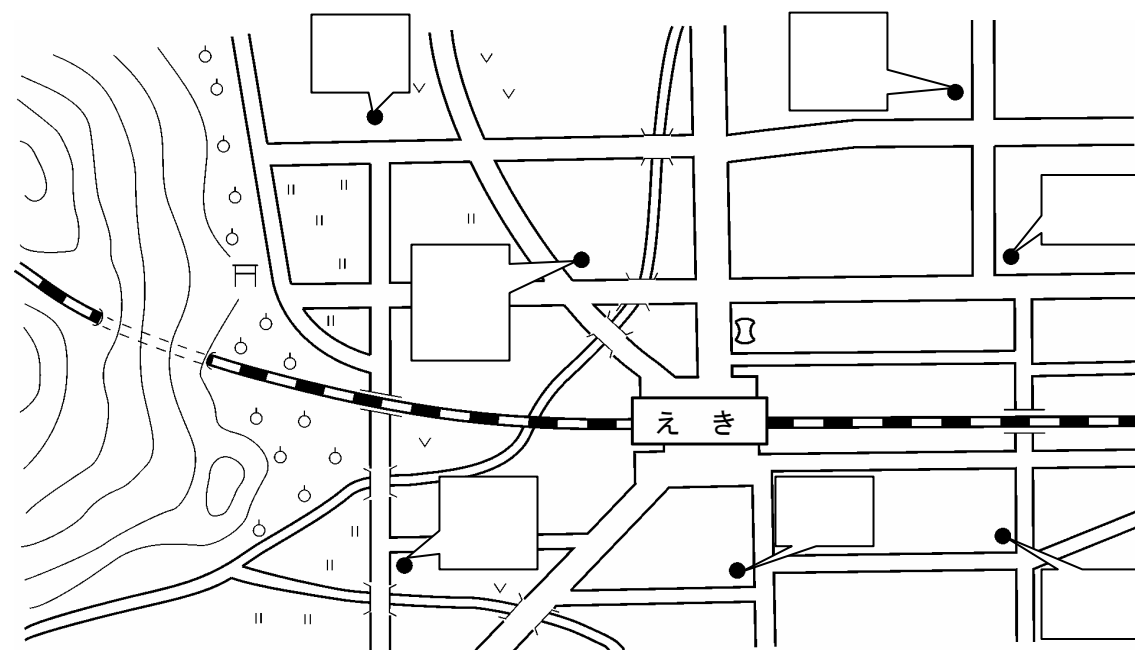
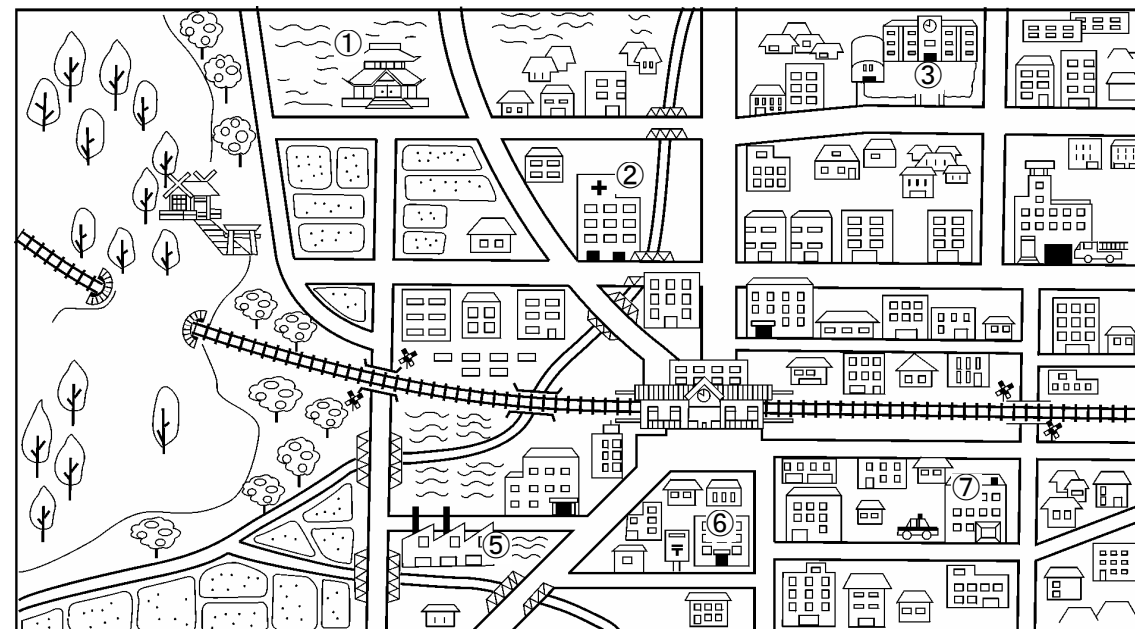
(あ) 	(い) 	(う) 	(え) 	(お) 	(か) 
(き) 	(く) 	(け) 	(こ) 	(さ) 	(し) 

②つぎの地図記号は、何をあらわしていますか、口の中にことばを書きましょう。

①  <input type="text"/>	②  <input type="text"/>	③  <input type="text"/>	④  <input type="text"/>
⑤  <input type="text"/>	⑥  <input type="text"/>	⑦  <input type="text"/>	⑧  <input type="text"/>

2 地図記号を使って、地図にあらわしてみよう。

☆絵を見て、地図の①～⑦の口に地図記号を入れよう。



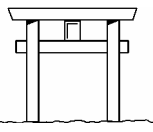
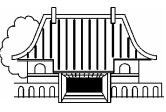
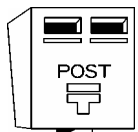





地図記号













学習日 月 日

年 組 番 名前

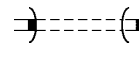


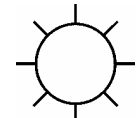




1 地図記号のなりたちを調べましょう。

①図にあう地図記号を、下の口の中から選び、①～⑧の口に書き入れましょう。

①  とりい <input type="text" value="(お)"/>	②  インドから伝わった 記号 <input type="text" value="(か)"/>	③  “デ”のりやく字 <input type="text" value="(う)"/>	④  工事のときのなわ の形 <input type="text" value="(し)"/>
⑤  くだもの <input type="text" value="(い)"/>	⑥  せきじゅうじ はた 赤十字の旗 <input type="text" value="(あ)"/>	⑦  はいぼう 警棒 <input type="text" value="(え)"/>	⑧  ゆ 湯つぼと 湯けむり <input type="text" value="(さ)"/>

(あ) 	(い) 	(う) 	(え) 	(お) 	(か) 
(き) 	(く) 	(け) 	(こ) 	(さ) 	(し) 

②つぎの地図記号は、何をあらわしていますか、口の中にことばを書きましょう。

①  <input type="text" value="トンネル"/>	②  <input type="text" value="神社"/>	③  <input type="text" value="城あと"/>	④  <input type="text" value="工場"/>
⑤  <input type="text" value="鉄道"/>	⑥  <input type="text" value="病院"/>	⑦  <input type="text" value="空港"/>	⑧  <input type="text" value="発電所"/>

2 地図記号を使って、地図にあらわしてみましょう。

☆絵を見て、地図の①～⑦の口に地図記号を入れましょう。

