

数の線 (3)

2ねん くみ ばん

月 日 ()

なまえ

◆ カードの数は数の線のどこにおけばいいですか。線でつなげましょう。

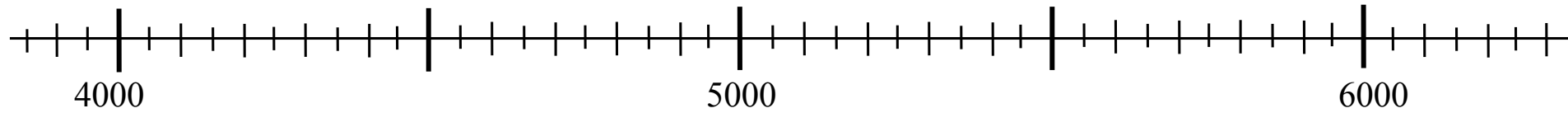
(1)

4700

4950

5600

6050



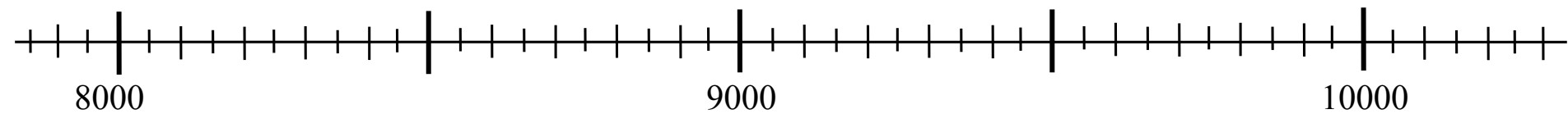
(2)

8050

8800

9100

9950



数の線 (3)

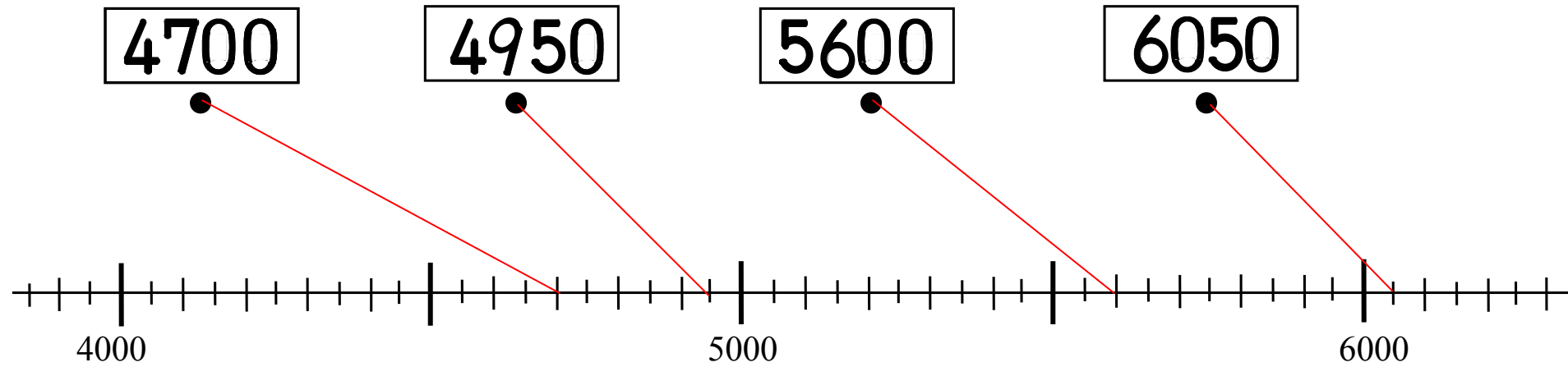
2ねん くみ ばん

月 日 ()

なまえ

◆ カードの数は数の線のどこにおけばいいですか。線でつなげましょう。

(1)



(2)

