

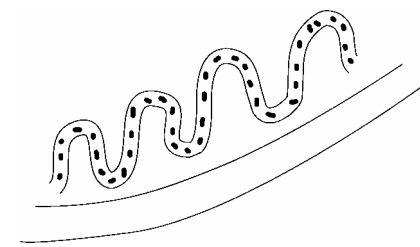
腸のつくりとはたらきを調べる

学習日 月 日()

年 組 番 名前

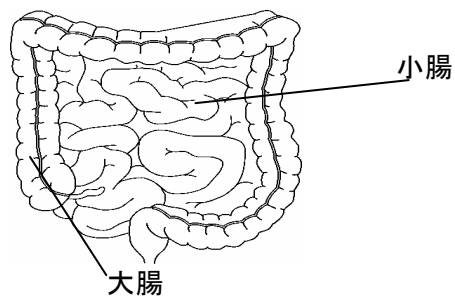
- ◆ 胃で消化された食物は、小腸へ運ばれる。下の図は、小腸の中のつくりを表した図がある。気がついたことを書き、なぜそういうつくりになっているのか調べてみよう。

*小腸の内部を表した図



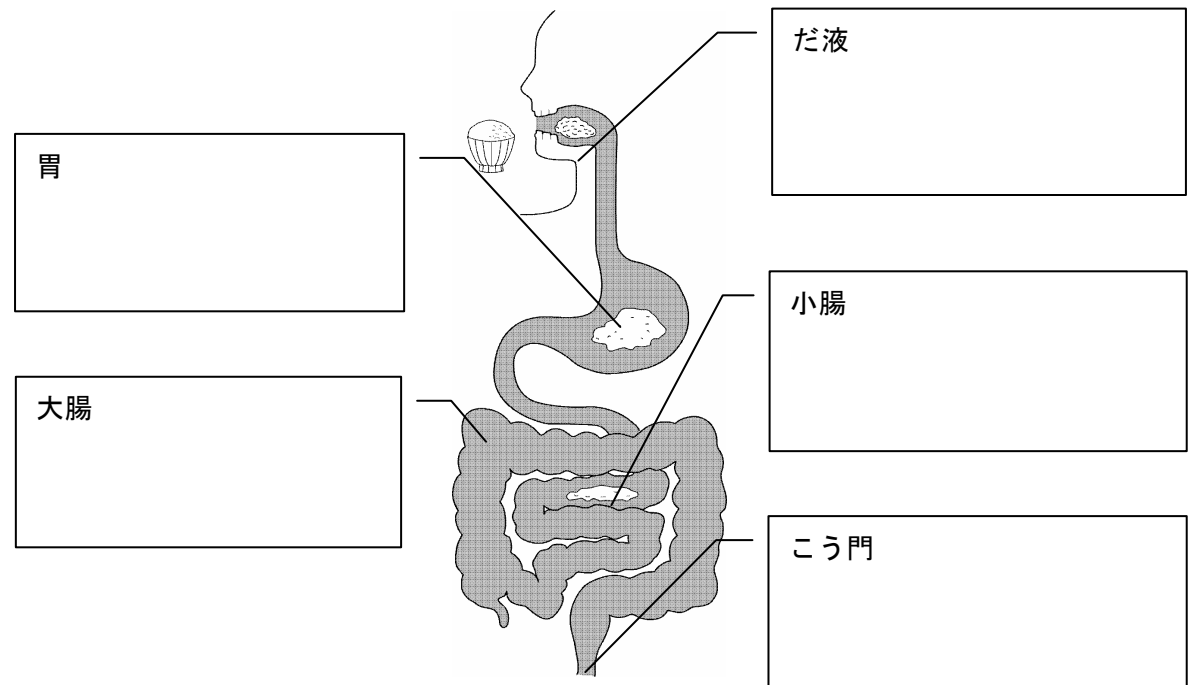
気がついたこと

- *腸には小腸だけでなく大腸もある。それぞれのつくりとはたらきを調べよう。



- ◆ これまで、食物が口から入ってとちゅうで消化され、腸で吸収された。そのあと、残りがふん（べん）となってはい出される。そこで、これまで学習したことをもとに、口から入った食物が、ふん（べん）としてはい出されるまでの食物の変化を、下の図の中にまとめよう。

食物の変化（ごはん）



- ◇ 今日の学習を終えた感想を書こう。
