

犯人はだれだ

5年 組 番


氏名

山の学校にどろぼうが入った。犯人をさがそう！

(1) 答えが10より大きくなる計算を赤くぬりましょう。

1.2×6	10×1	2.5×5	2.6×3	1.9×4	34.3÷7	21.6÷4	21.2÷3	69.7÷7
5.5×5	1.7×7	1.5×8	5.4×2	2×4	51.9÷5	49.8÷5	72.4÷8	74.5÷9
3.5×2	6.8×1	3.6×4	4.9×2	3.3×3	40.5÷8	3.8÷4	83.7÷9	37.4÷3
1.2×5	2.4×4	7.2×4	1.1×9	2.1×4	24.6÷2	29.8÷4	46.1÷5	20.4÷2
4.4×2	2.3×3	1.9×8	5.1×1	8.4×1	32.8÷6	12.3÷3	17.9÷2	53.7÷1
9.9×1	4.2×2	3.4×6	2.4×2	6.4×1	56.6÷8	45.6÷7	42.3÷8	27.6÷2
2.1×4	8.9×1	2.9×9	7.6×1	4.9×2	73.5÷9	19.5÷2	63.4÷5	99.9÷9
3.3×3	1.2×9	1.8×8	4.2×2	3.9×2	86.4÷8	16.7÷1	38.6÷3	50.4÷6


ぬすまれた
ものが
わかるよ！



(2) 答えが1より大きくなる計算を赤くぬりましょう。

0.4×3	1.6×2	0.23×8	0.06×16	5.1÷5	8.4÷8	2.08÷2	3.14÷4
1.2×1	0.4×1	0.56×2	0.12×8	4÷3	4.6÷9	4.32÷2	5.49÷7
0.1×9	0.8×1	0.72×6	0.48×2	1.6÷8	6.3÷9	6.09÷3	6.72÷8
0.3×3	0.9×2	0.65×2	0.36×2	3.6÷9	4.5÷9	5.36÷4	1.36÷4
0.1×2	0.5×1	0.54×2	0.52×1	4.6÷5	4÷8	2.91÷2	4.02÷5
0.6×3	0.4×2	0.63×2	0.39×2	5.6÷6	1.4÷2	4.21÷3	3.62÷4
1.7×2	0.7×2	1.03×1	0.24×4	4.7÷6	2.3÷3	2.18÷2	7.07÷9


ぬすまれたものは、
いくらのおだんの
ものだったのかな？



(3) 2.4よりこたえが大きくなる計算を赤でぬりましょう。

2.4×2	2.4×1.9	2.4×7.5	2.4×8.3	2.4÷7	2.4÷30	2.4÷0.4	2.4÷11	2.4÷22
0.9×2.4	0.3×2.4	2.4×1	2.1×2.4	2.4÷9	2.4÷0.1	2.4÷0.7	2.4÷0.5	2.4÷0.92
2.4×0.7	2.4×0.9	0.4×2.4	2.4×2	2.4÷1	2.4÷12	2.4÷0.3	2.4÷8.4	2.4÷0.34
0.1×2.4	6.1×2.4	2.4×0.9	1.56×2.4	2.4÷8	2.4÷24	2.4÷0.2	2.4÷27	2.4÷0.47
2.4×0.4	5×2.4	1.5×2.4	1.48×2.4	2.4÷5	2.4÷81	2.4÷0.9	2.4÷59	2.4÷0.61
0.5×2.4	2.4×3.7	2.4×0.2	2.4×0.99	2.4÷2	2.4÷34	2.4÷0.8	2.4÷41	2.4÷0.59
4×2.4	2.4×7	0.7×2.4	0.56×2.4	2.4÷6	2.4÷97	2.4÷0.6	2.4÷92	2.4÷0.18

犯人が着て
いた服の色
がわかるよ。



(4) 6.3より答えが大きくなる計算を赤でぬりましょう。

6.3×0.4	6.3×2	0.2×6.3	6.3×6.3	0.5×6.3	6.3×0.9	6.3÷0.5	6.3÷30	6.3÷0.42	6.3÷11	6.3÷64
6.3×2.8	6.3×5.1	6.3×1.7	6.3×12	6.3×9	6.3×0.1	6.3÷0.1	6.3÷26	6.3÷0.87	6.3÷41	6.3÷73
0.7×6.3	6.9×6.3	1×6.3	6.3×3	0.1×6.3	0.7×6.3	6.3÷0.7	6.3÷84	6.3÷0.34	6.3÷38	6.3÷90
6.3×0.2	3.9×6.3	6.3×0.9	6.3×6	0.4×6.3	0.2×6.3	6.3÷0.8	6.3÷4	6.3÷0.46	6.3÷62	6.3÷56
0.8×6.3	6.3×0.5	0.4×6.3	6.3×4	6.3×0.8	0.3×6.3	6.3÷0.3	6.3÷82	6.3÷0.47	6.3÷7	6.3÷73
6.3×0.6	6.3×0.8	0.5×6.3	8.1×6.3	0.9×6.3	6.3×0.5	6.3÷0.2	6.3÷1	6.3÷0.87	6.3÷80	6.3÷0.8
0.1×6.3	6.3×7	6.3×8.8	6.3×4.3	1×6.3	6.3×10	6.3÷0.9	6.3÷63	6.3÷0.58	6.3÷0.1	6.3÷6

犯人は、
誰だったの
かな？



まとめてみましょう。

- ぬすまれたものは何かな？
答え()
- ぬすまれたものはいくらのも
のかな？
答え()円
- 犯人の着ていた服の色は何色
かな？
答え()
- 犯人は誰かな？
答え()

犯人はだれだ

5年 組 番

氏名

山の学校にどろぼうが入った。犯人をさがそう！

(2) 答えが10より大きくなる計算を赤くぬりましょう。

1.2×6	10×1	2.5×5	2.6×3	1.9×4	34.3÷7	21.6÷4	21.2÷3	69.7÷7
5.5×5	1.7×7	1.5×8	5.4×2	2×4	51.9÷5	49.8÷5	72.4÷8	74.5÷9
3.5×2	6.8×1	3.6×4	4.9×2	3.3×3	40.5÷8	3.8÷4	83.7÷9	37.4÷3
1.2×5	2.4×4	7.2×4	1.1×9	2.1×4	24.6÷2	29.8÷4	46.1÷5	20.4÷2
4.4×2	2.3×3	1.9×8	5.1×1	8.4×1	32.8÷6	12.3÷3	17.9÷2	53.7÷1
9.9×1	4.2×2	3.4×6	2.4×2	6.4×1	56.6÷8	45.6÷7	42.3÷8	27.6÷2
2.1×4	8.9×1	2.9×9	7.6×1	4.9×2	73.5÷9	19.5÷2	63.4÷5	99.9÷9
3.3×3	1.2×9	1.8×8	4.2×2	3.9×2	86.4÷8	16.7÷1	38.6÷3	50.4÷6



(2) 答えが1より大きくなる計算を赤くぬりましょう。

0.4×3	1.6×2	0.23×8	0.06×16	5.1÷5	8.4÷8	2.08÷2	3.14÷4
1.2×1	0.4×1	0.56×2	0.12×8	4÷3	4.6÷9	4.32÷2	5.49÷7
0.1×9	0.8×1	0.72×6	0.48×2	1.6÷8	6.3÷9	6.09÷3	6.72÷8
0.3×3	0.9×2	0.65×2	0.36×2	3.6÷9	4.5÷9	5.36÷4	1.36÷4
0.1×2	0.5×1	0.54×2	0.52×1	4.6÷5	4÷8	2.91÷2	4.02÷5
0.6×3	0.4×2	0.63×2	0.39×2	5.6÷6	1.4÷2	4.21÷3	3.62÷4
1.7×2	0.7×2	1.03×1	0.24×4	4.7÷6	2.3÷3	2.18÷2	7.07÷9

(3) 2.4よりこたえが大きくなる計算を赤でぬりましょう。

2.4×2	2.4×1.9	2.4×7.5	2.4×8.3	2.4÷7	2.4÷30	2.4÷0.4	2.4÷11	2.4÷22
0.9×2.4	0.3×2.4	2.4×1	2.1×2.4	2.4÷9	2.4÷0.1	2.4÷0.7	2.4÷0.5	2.4÷0.92
2.4×0.7	2.4×0.9	0.4×2.4	2.4×2	2.4÷1	2.4÷12	2.4÷0.3	2.4÷8.4	2.4÷0.34
0.1×2.4	6.1×2.4	2.4×0.9	1.56×2.4	2.4÷8	2.4÷24	2.4÷0.2	2.4÷27	2.4÷0.47
2.4×0.4	5×2.4	1.5×2.4	1.48×2.4	2.4÷5	2.4÷81	2.4÷0.9	2.4÷59	2.4÷0.61
0.5×2.4	2.4×3.7	2.4×0.2	2.4×0.99	2.4÷2	2.4÷34	2.4÷0.8	2.4÷41	2.4÷0.59
4×2.4	2.4×7	0.7×2.4	0.56×2.4	2.4÷6	2.4÷97	2.4÷0.6	2.4÷92	2.4÷0.18



犯人が着ていた服の色がわかるよ。

まとめてみましょう。

- (5) ぬすまれたものは何かな？
答え(ナシ)
- (6) ぬすまれたものはいくらのものかな？
答え(37)円
- (7) 犯人の着ていた服の色は何色かな？
答え(赤)
- (8) 犯人は誰かな？
答え(サル)

(4) 6.3より答えが大きくなる計算を赤でぬりましょう。

6.3×0.4	6.3×2	0.2×6.3	6.3×6.3	0.5×6.3	6.3×0.9	6.3÷0.5	6.3÷30	6.3÷0.42	6.3÷11	6.3÷64
6.3×2.8	6.3×5.1	6.3×1.7	6.3×12	6.3×9	6.3×0.1	6.3÷0.1	6.3÷26	6.3÷0.87	6.3÷41	6.3÷73
0.7×6.3	6.9×6.3	1×6.3	6.3×3	0.1×6.3	0.7×6.3	6.3÷0.7	6.3÷84	6.3÷0.34	6.3÷38	6.3÷90
6.3×0.2	3.9×6.3	6.3×0.9	6.3×6	0.4×6.3	0.2×6.3	6.3÷0.8	6.3÷4	6.3÷0.46	6.3÷62	6.3÷56
0.8×6.3	6.3×0.5	0.4×6.3	6.3×4	6.3×0.8	0.3×6.3	6.3÷0.3	6.3÷82	6.3÷0.47	6.3÷7	6.3÷73
6.3×0.6	6.3×0.8	0.5×6.3	8.1×6.3	0.9×6.3	6.3×0.5	6.3÷0.2	6.3÷1	6.3÷0.87	6.3÷80	6.3÷0.8
0.1×6.3	6.3×7	6.3×8.8	6.3×4.3	1×6.3	6.3×10	6.3÷0.9	6.3÷63	6.3÷0.58	6.3÷0.1	6.3÷6



犯人は、誰だったのかな？