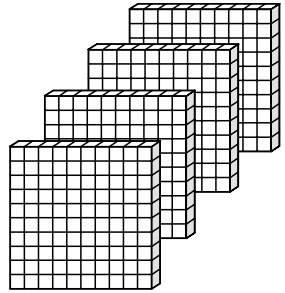
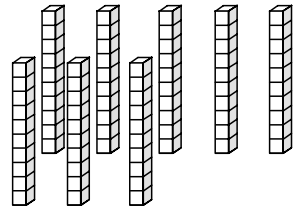



いくつかでしょう

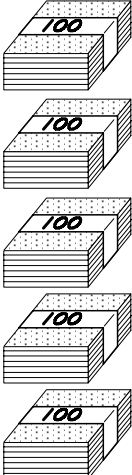
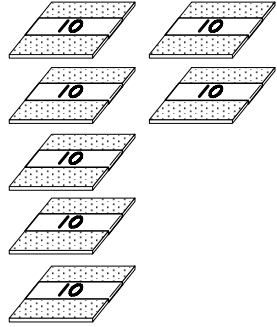
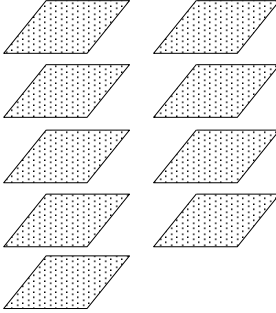
① □にあてはまる数を書きましょう。

		
---	---	---

百のくらい	十のくらい	一のくらい

--	--	--

② □にあてはまる数を書きましょう。

		
---	---	--

--	--	--

2ねん くみ ばん 月 日 ()

なまえ _____


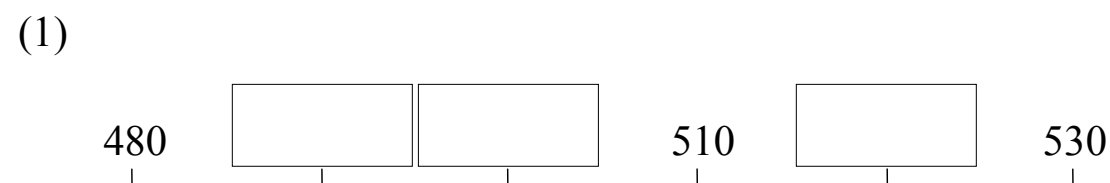
③ □にあてはまる数を書きましょう。

(1) 100を7こ, 1を9こ あわせた数は です。

(2) 100を9こ, 10を2こ, 1を3こ あわせた数は です。

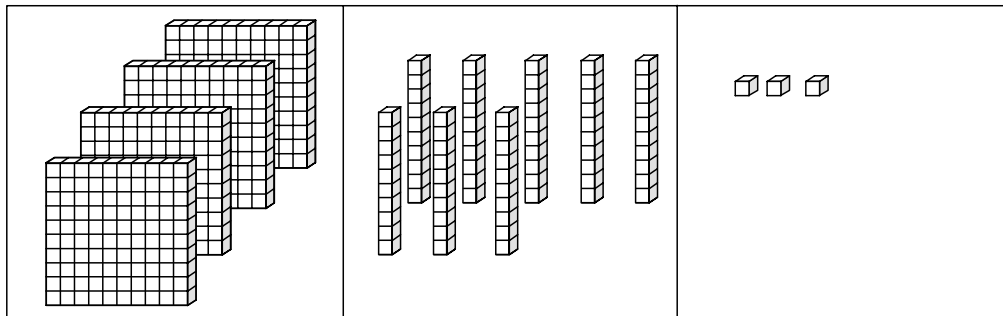
(3) 100を6こ, 1を5こ あわせた数は です。

④ □にあてはまる数を書きましょう。



いくつかでしょう

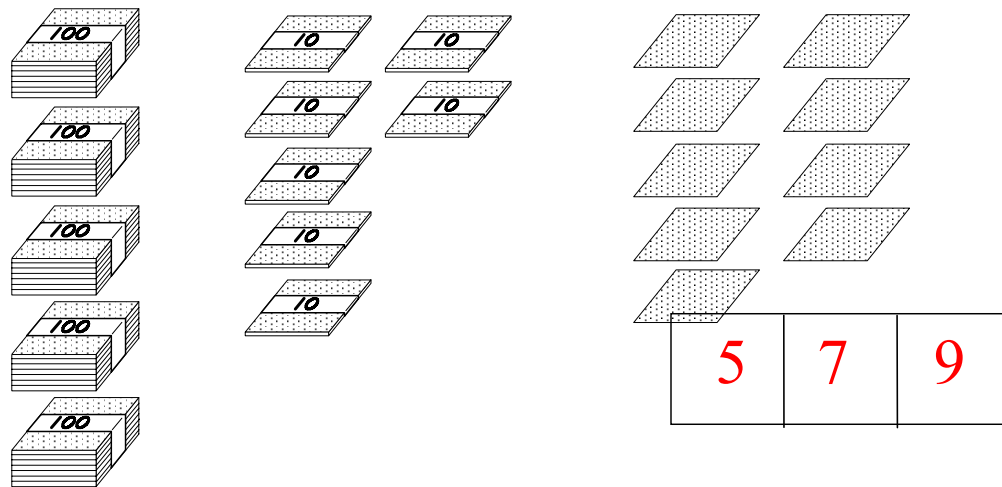
① □にあてはまる数を書きましょう。



百のくらい	十のくらい	一のくらい
4	8	3

4	8	3
---	---	---

② □にあてはまる数を書きましょう。



5	7	9
---	---	---

なまえ

③ □にあてはまる数を書きましょう。

(1) 100を7こ, 1を9こ あわせた数は 709 です。

(2) 100を9こ, 10を2こ, 1を3こ あわせた数は 923 です。

(3) 100を6こ, 1を5こ あわせた数は 605 です。

④ □にあてはまる数を書きましょう。

